

# TÖRTÉNELEM

7-8. évfolyamos tanulók számára

2. forduló

Összpontszám:	40 p	
---------------	------	--

A feladatlap kitöltendő:

2023. november 29-én (szerdán) 13.00-15.00 óra között 45-45 perc alatt tantárgyanként, felügyelet mellett!

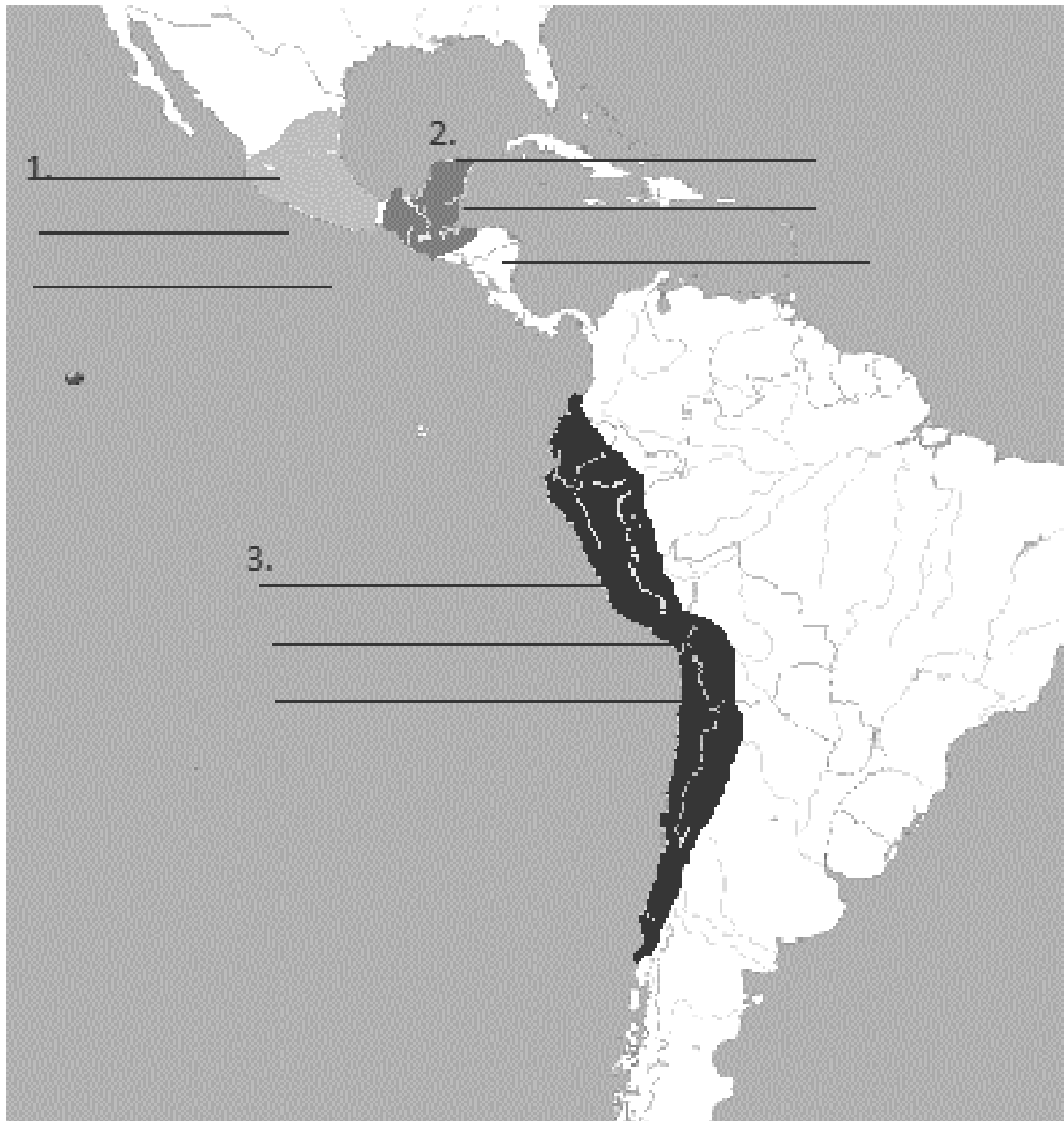
Postára adás utolsó határideje: november 29-i szerdai postabélyegzővel.

Név:..... Karikázd be az évfolyamodat: 7. 8.

Iskola neve, címe (bélyegző is lehet):

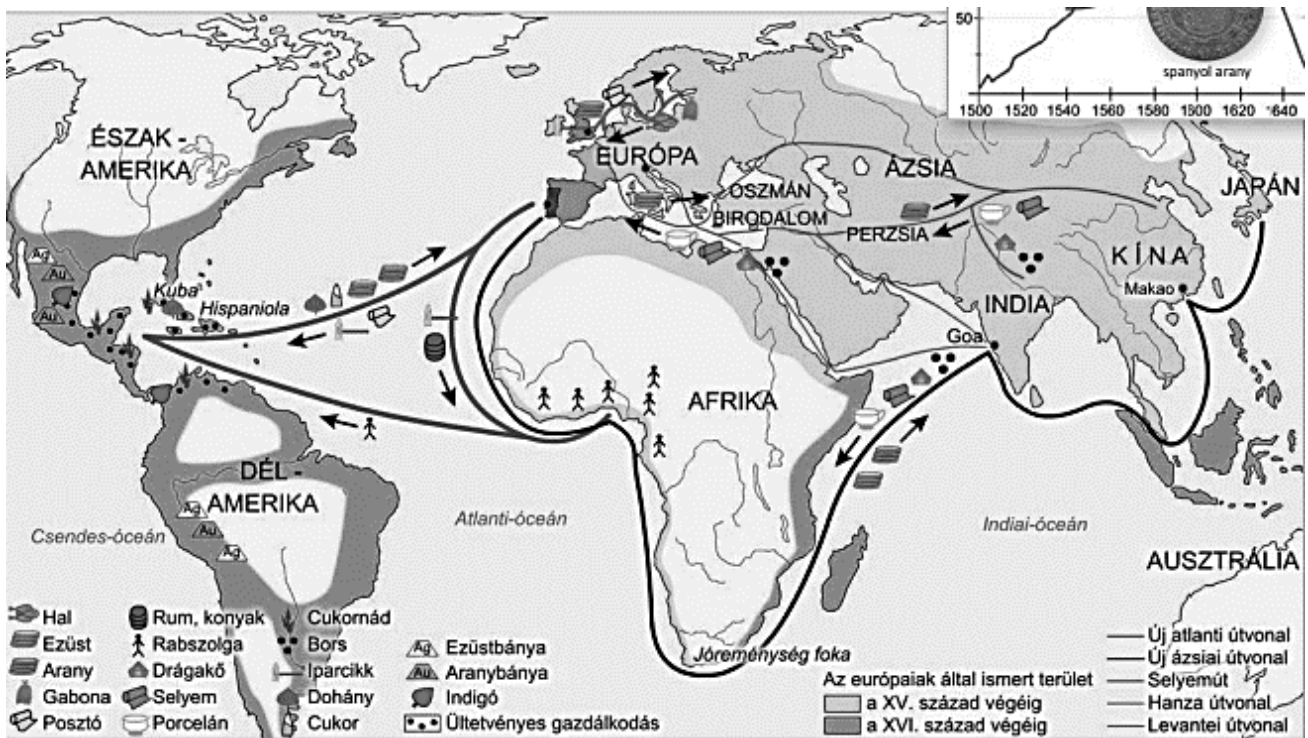
.....

1. Indián kultúrák: Írd be a számhoz a hozzájuk tartozó indián kultúra nevét! Írj még két további jellemzőt az adott indián kultúrához!



9 pont	
--------	--

2. Az ábra alapján dönts el, hogy igazak vagy hamisak-e az alábbi állítások!



ÁLLÍTÁSOK	IGAZ	HAMIS
Afrikából Amerikába nem szállítottak iparcikket.		
Afrikából Európába alkoholt szállítottak.		
Amerikából Európába nem szállítottak aranyat.		
A Levantei útvonal Európából Amerikába szállít.		
A Hanza útvonalon tud Észak- Európa bekapcsolódni a kereskedelembe.		
Afrikát megkerülve jutnak Európába fűszerek, főként bors.		
Közép-Amerikában kialakul az ültetvényes gazdálkodás.		
Ázsiából luxuscikk érkezik a Levantei kereskedelmi útvonalakon.		
Az amerikai ültetvényeken indián rabszolgák dolgoznak nagy többségben.		

9 pont

3. Egészítsd ki a szöveget ismereteid alapján!







A .....(ország) királya arra gondolt, hogy hajókkal Afrika megkerülésével kellene Indiába eljutni. A portugál hajók rövidesen kiszorították az arab vetélytársakat az.....-ról (óceán). Ám az út Afrika megkerülésével nagyon hosszúnak bizonyult. Az Ibériai-félsziget államainak többségét egyesítő, az arabokat onnan kiszorító .....(ország) a portugálokkal versenyezve szintén szerette volna megszerezni India kincseit, ezért új utakat keresett. Lehetséges út azonban már csak .....(égtáj) , a nyílt óceán irányába vezetett. Egy itáliai származású hajós, .....(név) évek óta gyűjtötte a tudományos érveket a nyugatra vezető út mellett.



A humanista tudósok által újra felfedezett ókori szerzők nyomán úgy gondolta, hogy a Föld nem lapos, hanem gömbölyű. Tervéhez több uralkodónál is keresett támogatást. Végül a spanyol királyi udvar támogatásával Kolumbusz felszerelhetett három kicsi hajót az útra. ....-ben (évszám) indult útnak a Santa Maria fedélzetén, és két hónapnyi hajózás után partra szállt. Azt gondolta, elérte Indiát. Később egyre többen kételkedni kezdtek ebben, és az újonnan felfedezett területet Újvilágnak, majd .....(kontinens) nevezték el.

7 pont	
--------	--

**4. Mi honnan származik? Húzd alá a jó választ!**

						
Mi látható a képen? Írd ide! →						
Honnan származik? Húzd alá a jó megoldást!	Afrika Dél-Amerika India	India Dél-Amerika Ázsia	Dél-Amerika Közép-Ázsia Afrika	India Afrika Dél-Amerika	Amerika Európa India	India Amerika Afrika

12 pont	
---------	--

**5. Párosítsd össze a következő képeket a fogalmakkal! /Egy fogalom kimarad!/  
maja naptár**



maja naptár



inka teraszos földművelés



azték piramis

kipu

3 pont	
--------	--