

TERMÉSZETISMERET

4. évfolyamos tanulók számára
3. forduló

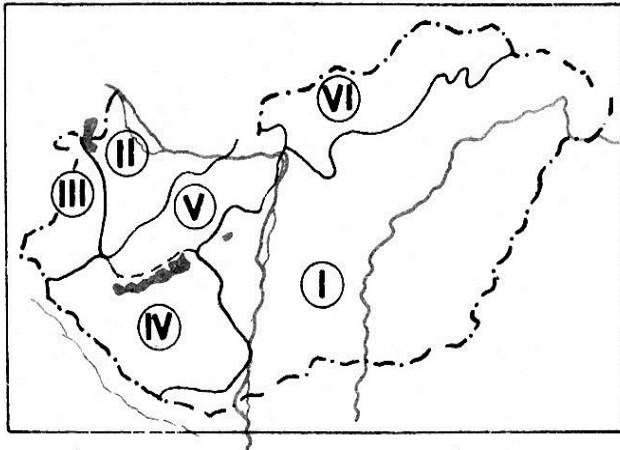
Össz.pontszám: **50p**

A döntő időpontja: 2016. január 28. (csütörtök)

Versenyző neve: Osztály:

1. Nevezd meg Magyarország nagy tájait!

6 pont

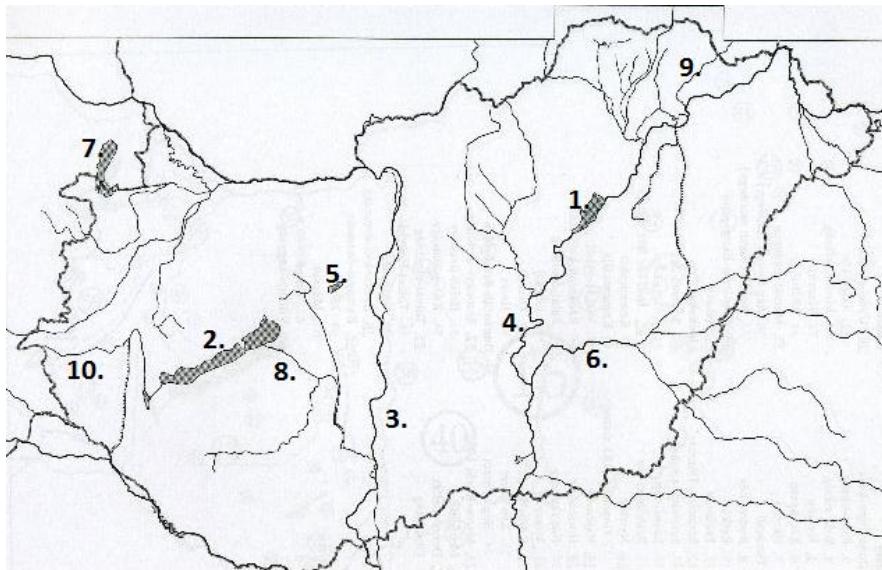


I.
II.
III.

IV.
V.
VI.

2. Nevezd meg a számokkal jelzett magyarországi vizeket!

10 pont



1.
2.
3.
4.
5.

6.
7.
8.
9.
10.

3. Egészíts ki a mondatokat!

| | |
|----------------|--|
| 10 pont | |
|----------------|--|

A a Föld felszínének legpontosabb kicsinyített mása. A Földünk arányosan kicsinyített felülnézeti rajza. A térkép a felszíni formákat: síkságokat, dombságokat, hegységeket és a vizeket ábrázolja. Az országokat, megyéket, közlekedési útvonalakat ábrázoló térképeket vagy térképnek nevezzük. A térkép zöld színnel ábrázolja a, világosbarna színnel a és barnával a A világoskék szín a, a sötétebb kék a jelöli.

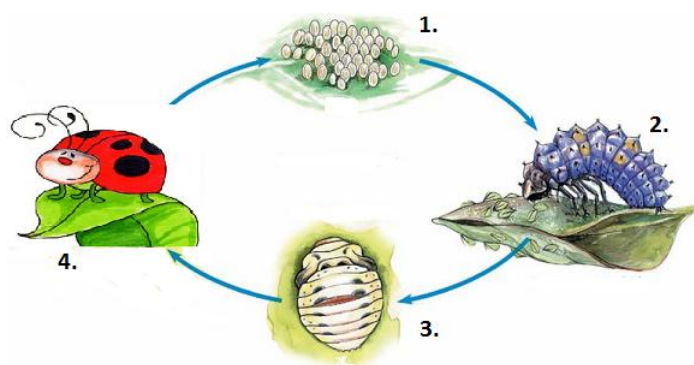
4. Döntsd el, hogy igaz vagy hamis az állítás! Írj I vagy H betűt a mondat elé!

| | |
|----------------|--|
| 10 pont | |
|----------------|--|

- 1. Hazánk legcsapadékosabb tája az Északi-középhegység.
- 2. A növényi olajok fogyasztása egészségesebb, mint a sertézsíré.
- 3. Hazánkban a Kiskunságon hull a legkevesebb csapadék.
- 4. A háziló emlős, mert négy lába van.
- 5. A fekete rigó fiókái fészeklakó fiókák.
- 6. A Hortobágyi Nemzeti Park hazánk első nemzeti parkja.
- 7. Földünk a Naptól távolodva a 4. bolygó.
- 8. A sárgarépat főgyökeréért és leveléért termesztjük.
- 9. A paradicsom és a paprika fény- és melegigényes kétnyári növények.
- ... 10. A Maros a Tisza bal oldali mellékfolyója.

5. a) Nevezd meg a rovarok fejlődési folyamatát! Válaszolj röviden a kérdésekre! (Minden helyes válasz fél pontot ér.)

| | |
|---------------|--|
| 5 pont | |
|---------------|--|



1. 2. 3. 4.

- b) Mi a neve ennek a fejlődésnek:
- c) Sorold fel a rovarok testtájjait!
- d) Mi a fő alkotóemele/anyaga a bogarak külső vázának?
- e) Hány pár lábuk van a rovaroknak?

