

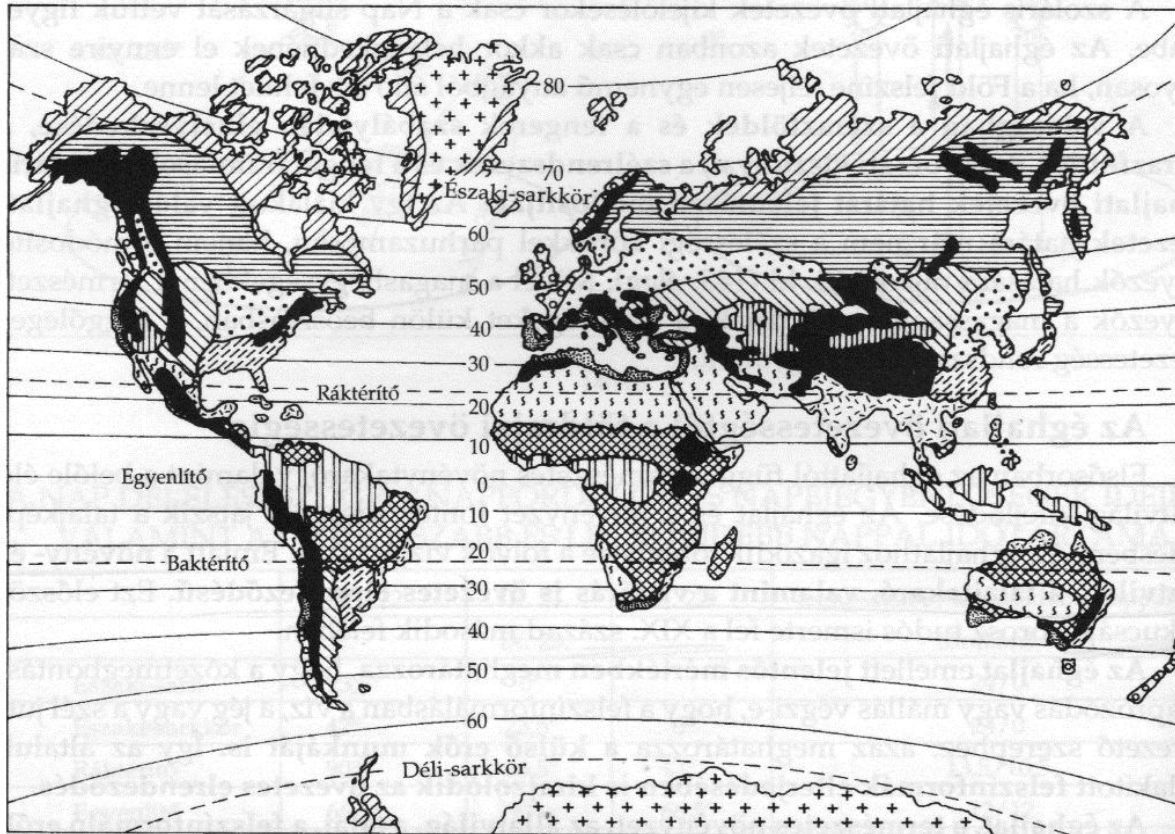
LEVELEZŐS VERSENY

BIOLÓGIA 7. DÖNTŐ

I. Éghajlati övezetek

Nevezd meg az alábbi jelekkel jelzett éghajlatokat!

10 pont



ÁTMENETI ÖV – 4.



SZÉLSŐSÉGESEN SZÁRAZ KONTINENTÁLIS

ÉGHAJLAT – 3.




ÓCEÁNI ÉGHAJLAT – 2.



HIDEG MÉRSÉKELT ÖV/TAJGA – 1.

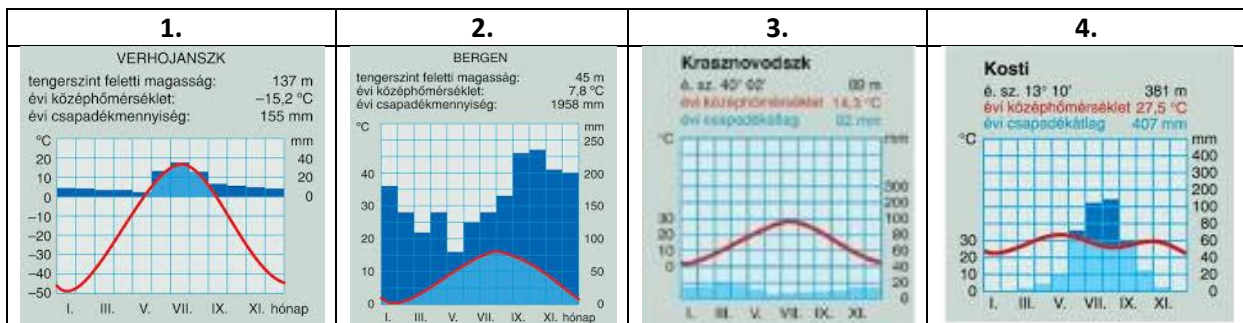


NEDVES KONTINENTÁLIS ÉGHAJLAT

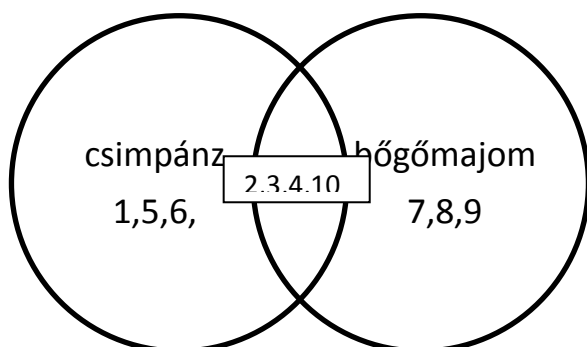


TRÓPUSI MONSZUN

Az alábbi 4 éghajlati diagram sorszámát írd a megfelelő helyre!



II. Hasonlítsd össze a csimpánzt és a bögőmajmot! Írd a megfelelő számot a megfelelő helyre!
10 pont



1. Előre tekintő szem.
2. Afrikai élőhely.
3. Viszonylag kis törzs.
4. 5 ujjú végtag.
5. 32 fog
6. Fogóvégtag.
7. Hosszabb mellső végtag.
8. Változatos színű szőrzet.
9. Hosszú farok.
10. Körmök.

III. Egészítsd ki a mondatokat! Nem kell mindegyik kifejezést felhasználni! 10 pont

szegény, 250 trópusi, száraz kontinentális, gazdag, óceáni,
500 nedves kontinentális, fenyves, talajsínt, tölgyes,
gyepsínt, mérsékelt, zárt, sok, bükkös, nyílt, kevés,

A lombdők a **MÉRSÉKELT** éghajlati övben alakulnak ki. Annak is főleg az **ÓCEÁNI**

és a **NEDVES KONTINENTÁLIS** éghajlatú területén. A csapadék évi mennyisége itt meghaladja az

500 mm-t. Ez **ZÁRT** erdőségek kialakulásához vezet. Az erdő aljára **SOK** fény

jut. A tölgyeseket gazdag cserjesínt és **GYEPSZINT** jellemzi. A lombdők

talaja humuszban **GAZDAG**. Az alacsonyan fekvő területeken **TÖLGYES** a magasabban

fekvő és a hűvösebb északi lejtőkön **BÜKKÖS** húzódnak.

IV. Igaz vagy Hamis? Írd az I vagy H betűt a mondat elé!

10 pont

- ___ I ___ 1. A sivatagok a térítő mentén alakultak ki.
- ___ H ___ 2. Az esőerdő talaja tápanyagban gazdag.
- ___ H ___ 3. A szavannán egy hideg és egy meleg évszak váltja egymást.
- ___ I ___ 4. Az Egyenlítőtől távolodva csökken a csapadék mennyisége.
- ___ H ___ 5. Az esőerdőben nagy a napi hőingás.
- ___ H ___ 6. A szavannán a folyók vízjárása egyenletes.

___I___ 7. Az esőerdőben három lombkorona alakult ki.

___H___ 8. A sivatagokban a csapadék évi mennyisége meghaladja a 250 mm-t.

___I___ 9. A szavanna talaja tápanyagdús.

___I___ 10. Az esőerdő az Egyenlítő mentén alakult ki.

V. Melyik állatra igaz? Írd a jellemző sorszámát az állat mellé!

10 pont

Kolibri: ___3, ___10_____

Strucc: ___6, ___9_____

Vastagfarkú skorpió: ___2, ___4, _____

Nagy pele: ___5, ___8_____

Földikutya: ___1, ___7_____

1. Növényevő, gyökerekkel, gumókkal táplálkozik.
2. 4 pár járólába van.
3. Csőszerű, hosszú csőre van.
4. Pókszabásúakhoz tartozik.
5. Alkonyatkor, éjszaka aktív. Sötétben jól lát.
6. Hosszú, erőteljes izomzatú hátsó végtag.
7. Fülkagylója, farka nincs.
8. Rágcsáló, emlős.
9. Lekerekített csőrével főleg növényi táplálékot fogyaszt.
10. Folyamatosan táplálkozik a nagy energiaszükséglete miatt.