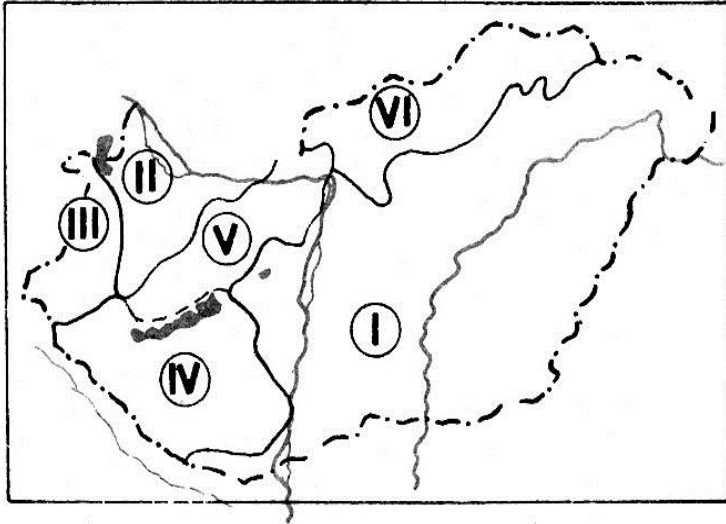


**TERMÉSZETISMERET DÖNTŐ
MEGOLDÁS**

1. Nevezd meg Magyarország nagy tájait!

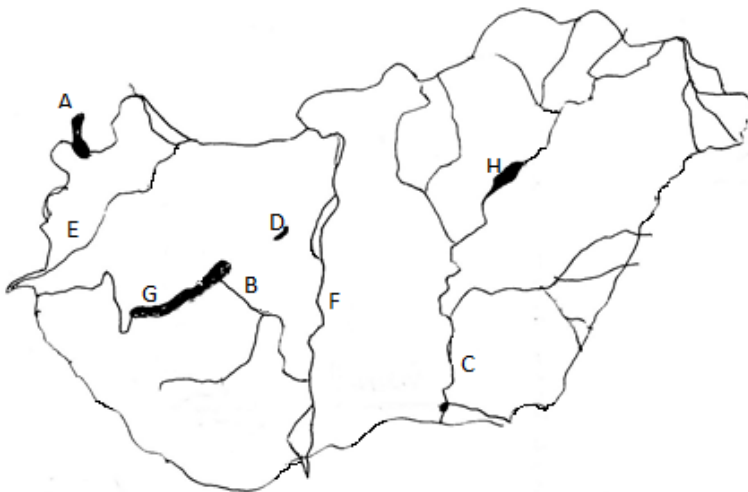
6 pont



- I. ALFÖLD
- II. KISALFÖLD
- III. ALPOKALJA
- IV. DUNÁNTÚLI -DOMBSÁG
- V. DUNÁNTÚLI-KÖZÉPHEGYSÉG
- VI. ÉSZAKI-KÖÉPHEGYSÉG

2. Nevezd meg a betűkkel jelzett magyarországi vizeket!

8 pont



- A) FERTŐ-TÓ
- B) SIÓ
- C) TISZA
- D) VELENCEI-TÓ

- E) RÁBA
- F) DUNA
- G) BALATON
- H) TISZA-TÓ

3. Egészíts ki a mondatokat! 10 pont

A Föld a **NAPRENDSZER** tagja. A Naprendszer központja a **NAP**, körülötte keringenek a **BOLYGÓK**. A Naprendszer a **TEJÚTRENDSZER**-be tartozik. A Tejútrendszer a **VILÁGEGYETEM** része. A Világegyetemben minden mozgásban van. **FARKAS BERTALAN** az első magyar űrhajós. A Föld **GÖMB** alakú bolygó. Az **EGYENLÍTŐ** északi és déli félgömbre osztja. A **FÖLDGÖMB** a Föld kicsinyített mása. A **HOLD** a Föld kísérője.

4. Döntsd el, hogy *igaz vagy hamis* az állítás! Írj **I** vagy **H** betűt a mondat elé! 10 pont

I 1. Hazánk legnagyobb tája az Alföld.

I 2. A természetben gyűjtött gombákat a piacon ingyen vizsgáló gombaszakértővel mindig ellenőriztetni kell!

H 3. A Föld a Nap körül forog.

H 4. A nagy fakopáncs a fák kérgével táplálkozik.

H 5. A héjának kúszó lába van.

I 6. A Rába a Duna jobb parti mellékfolyója.


I 7. Az erdő megakadályozza a termőtalaj elhordását.

H 8. A bükkerdőben egész évben sok fény jut a talajra.

H 9. A járdáról lelépve először jobbra, majd balra kell szétnézni.

H 10. Az orrüreg után a gégebe kerül a levegő.

5. Old meg a keresztrejtvényt! 10 pont/



VÍZSZINTES

- 2.A BALATON FÉLSZIGETE.
- 4.A TÉRKÉP KICSINYÍTÉSÉNEK MÉRTÉKÉT ADJA MEG.
- 5.A NÖVÉNYEK A TÁPLÁLÉKKÉSZÍTÉS SORÁN ÁLLÍTJÁK ELŐ.
- 6.EZ A CSATORNA KÖTI ÖSSZE A BALATONT A DUNÁVAL.
- 7.A HEGYSÉGEK, DOMBSÁGOK EZEN LEJTŐJÉN TERMESZTIK A SZŐLŐT HAZÁNKBAN.
- 8.MÁS MADARAK FÉSZKÉBE TESZI TOJÁSAIT.

FÜGGŐLEGES

- 1.NÉHÁNY ÉV MÚLVA EBBE A FEJLŐDÉSI SZAKASZBA KERÜLSZ.
- 3.A DUNA-TISZA KÖZÉNEK JELLEGZETES KÉPZŐDMÉNYE.
- 6.EZZEL SZAPORODNAK A GOMBÁK.
- 8.CSAK EUKALIPTUSSZAL TÁPLÁLKOZÓ AUSZTRÁLIAI ERSZÉNYES EMLŐS.

6. Nevezd meg a képen látható növényeket, állatokat! 6 pont



A) SZARVASBOGÁR



B) GYÉKÉNY



C) ORVOSI PIÓCA



D) FAGYÖNGY



E) HÓD



F) BOROSTYÁN