

TERMÉSZETISMERET

4. évfolyamos tanulók számára

3. forduló

2014. január 27.

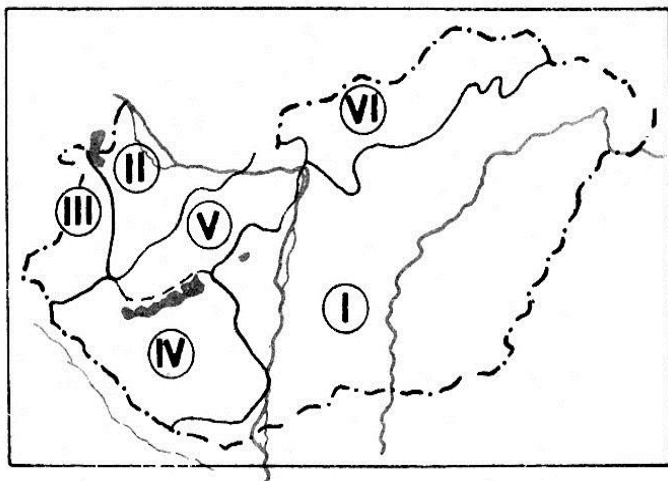
Össz.pontszám:

50 p	
------	--

Versenyző neve: Osztály:

1. Nevezd meg Magyarország nagy tájait!

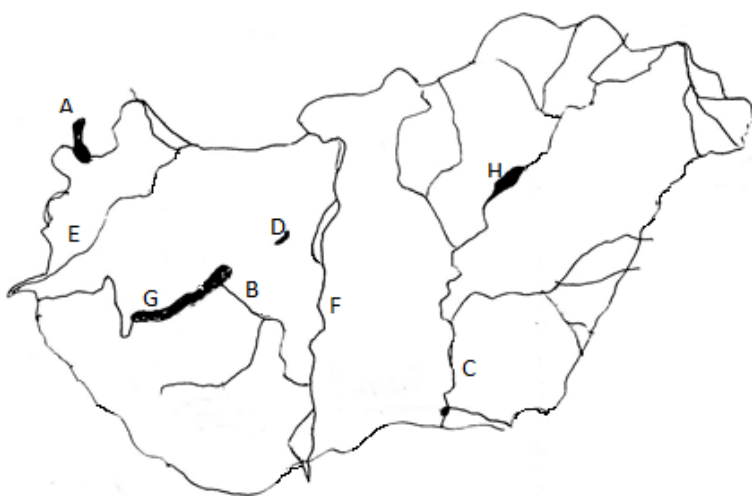
6 pont	
--------	--



- I. _____
- II. _____
- III. _____
- IV. _____
- V. _____
- VI. _____

2. Nevezd meg a betűkkel jelzett magyarországi vizeket!

8 pont	
--------	--



<p>A _____</p> <p>B _____</p> <p>C _____</p> <p>D _____</p>	<p>E _____</p> <p>F _____</p> <p>G _____</p> <p>H _____</p>
---	---

3. Egészíts ki a mondatokat!

10 pont

A Föld a tagja. A Naprendszer központja a, körülötte keringenek a A Naprendszer a-be tartozik. A Tejútrendszer a része. A Világegyetemben minden mozgásban van. az első magyar űrhajós. A Föld alakú bolygó. Az északi és déli félgömbre osztja. A a Föld kicsinyített mása. A a Föld kísérője.

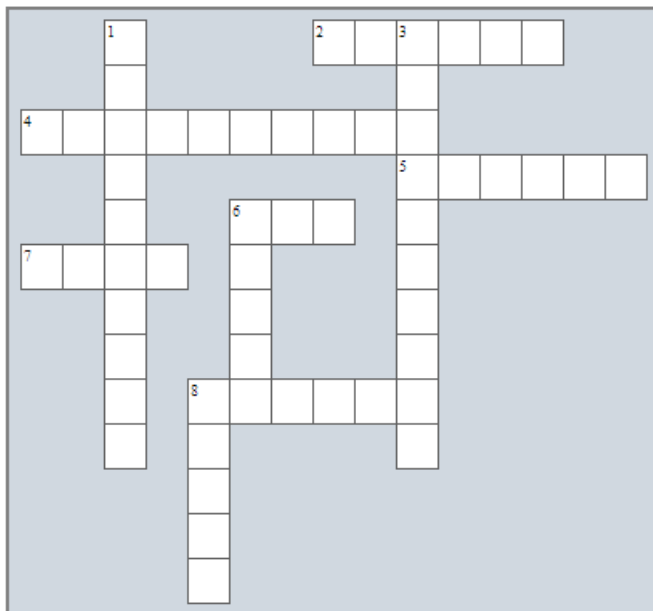
4. Döntsd el, hogy igaz vagy hamis az állítás! Írj I vagy H betűt a mondat elé!

10 pont

- 1. Hazánk legnagyobb tája az Alföld.
- 2. A természetben gyűjtött gombákat a piacon ingyen vizsgáló gombaszakértővel mindig ellenőriztetni kell!
- 3. A Föld a Nap körül forog.
- 4. A nagy fakopáncs a fák kérgével táplálkozik.
- 5. A héjának kúszó lába van.
- 6. A Rába a Duna jobb parti mellékfolyója.
- 7. Az erdő megakadályozza a termőtalaj elhordását.
- 8. A bükkerdőben egész évben sok fény jut a talajra.
- 9. A járdáról lelépve először jobbra, majd balra kell szétnézni.
- 10. Az orrüreg után a gégebe kerül a levegő.

5. Old meg a keresztrejtvényt!

10 pont



VÍZSZINTES

2. A BALATON FÉLSZIGETE.
4. A TÉRKÉP KICSINYÍTÉSÉNEK MÉRTÉKÉT ADJA MEG.
5. A NÖVÉNYEK A TÁPLÁLÉKKÉSZÍTÉS SORÁN ÁLLÍTIK ELŐ.
6. EZ A CSATORNA KÖTI ÖSSZE A BALATONT A DUNÁVAL.
7. A HEGYSÉGEK, DOMBSÁGOK EZEN LEJTŐJÉN TERMESZTIK A SZŐLŐT HAZÁNKBAN.
8. MÁS MADARAK FÉSZKÉBE TESZI TOJÁSAIT.

FÜGGŐLEGES

1. NÉHÁNY ÉV MÚLVA EBBE A FEJLŐDÉSI SZAKASZBA KERÜLSZ.
3. A DUNA-TISZA KÖZÉNEK JELLEGZETES KÉPZŐDMÉNYE.
6. EZZEL SZAPORODNAK A GOMBÁK.
8. CSAK EUKALIPTUSSZAL TÁPLÁLKOZÓ AUSZTRÁLIAI ERSZÉNYES EMLŐS.

6. Nevezd meg a képen látható növényeket, állatokat!

6 pont



A _____



B _____



C _____



D _____



E _____



F _____