

**TERMÉSZETISMERET**  
**4. évfolyamos tanulók számára**  
**1. forduló**

Össz.pontszám:	<b>90p</b>	
----------------	------------	--

Beküldési határidő: 2013. november 07.

Név:.....

Lakcím:.....

Iskola neve, címe:.....

.....

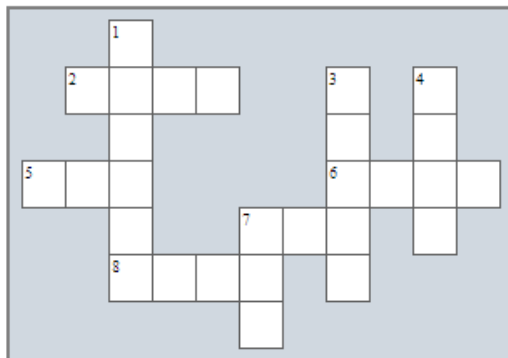
**1. Keresd meg a betűhalmazban elrejtett 10 földrajzi fogalmat!**

í	Z	H	E	H	C	H	B	F	B	R	Z	N	I	J
J	J	L	B	J	D	B	U	D	A	P	E	S	T	M
T	C	S	A	P	A	D	é	K	K	G	M	é	A	U
H	F	S	E	N	R	K	E	á	á	K	Q	U	W	Y
ő	S	J	X	J	Y	N	T	S	í	K	S	á	G	í
M	X	X	ő	I	A	í	B	W	N	J	G	W	ő	S
é	í	M	T	L	é	M	R	G	N	W	X	L	B	G
R	B	E	E	V	O	O	H	E	B	V	O	N	é	T
S	Z	W	N	D	á	J	H	J	G	R	L	S	B	S
é	T	M	í	H	J	R	T	Z	K	Y	Y	X	Q	G
K	I	S	é	F	D	D	O	T	G	G	H	X	G	H
L	I	ő	L	X	P	Y	L	S	E	W	E	á	M	O
E	T	é	R	L	Y	W	Y	H	Z	M	T	ő	Z	P
T	Z	ő	E	B	F	A	L	U	Q	U	J	U	V	A
S	I	L	E	Z	B	B	F	Z	S	é	T	P	K	S

<b>10p</b>	
------------	--

**2. Töltsd ki a keresztrejtvényt!**

**Az emberi test**



**Across**

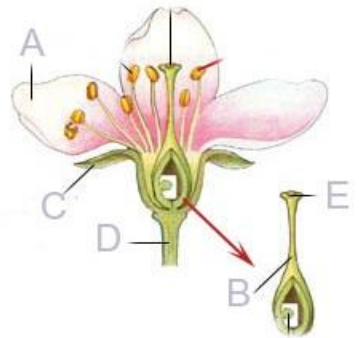
- 2. Ez a szerv pumpálja a vért az erekben.
- 5. A hangok érzékelését végzi.
- 6. Ezekben kering a vér.
- 7. Hosszú, vékony cső, mely az emésztés helye.
- 8. A légút vége.

**Down**

- 1. A könyök, a térd, a csukló is ez.
- 3. Ennek felületén érzékeljük az ízeket.
- 4. A látás szerve.
- 7. Ez védi testünket a külső hatásoktól.

<b>10p</b>	
------------	--

**3. Nevezd meg a virág betűvel jelzett részeit!**



A \_\_\_\_\_ B \_\_\_\_\_ C \_\_\_\_\_  
D \_\_\_\_\_ E \_\_\_\_\_

5p

**4. Élő természet**

Sorold fel a hazánkban fellelhető élőhelyeket a természetben!

.....  
.....

Írd az előző feladatban a megfelelő élőhelyhez az alábbi élőlények számát!

1.fehér fűz 2. pióca 3. kocsánytalan tölgy 4. réti boglárka 5.nagy fakopáncs 6. mezei nyúl

9p

**5. Hazánk Magyarország**

Fővárosa:.....

Az én településem:.....

Melyik megyében élek:.....

Megyém megyeszékhelye: .....

Az országot a .....-ból (település) irányítják és az országgyűlés  
.....-kel szabályozza.

6p

**6. Nevezd meg a leírás alapján a település típusát!**

Magányos település:.....

Bevásárláshoz, iskolába járáshoz nagyobb távolságra kell utazni:

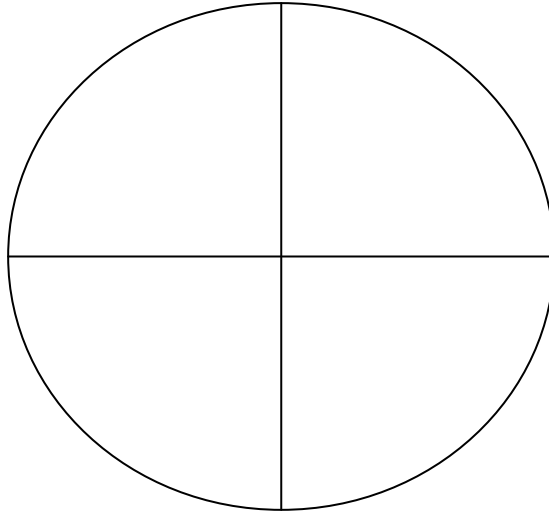
.....

Az emberek kertés házban laknak:.....

3p

**7. Tájékozódás**

Jelöld a fő- és mellékvilágtájakat!



8p	
----	--

**8. Hazánk gazdasága**

A gazdaság és a gazdaságban foglalkoztatott emberek szempontjából hazánk gazdaságát három részre oszthatjuk:

.....

3p	
----	--

**9. Közlekedés: Csoportosítsd a közlekedési eszközöket!**

Légi közlekedés .....

Vízi közlekedés .....

Szárazföldi közlekedés .....

autó, metró, kerékpár, hajó, autóbusz, repülő, vonat, helikopter, trolibusz, villamos

10p	
-----	--

**10. Fejtsd meg a találós kérdéseket**

a) Zöld burokban születtem, mire aztán megnöttem, a zöld burok kifeslett, és az úrfi kiesett.

.....

b) Fehér ház fél lábon áll.

.....

c) Száz szeme van mégsem lát.

.....

d) Elföldelik, eltemetik a föld alatt sokasodik.

.....

e) Ha vizet iszik rögtön meghal.

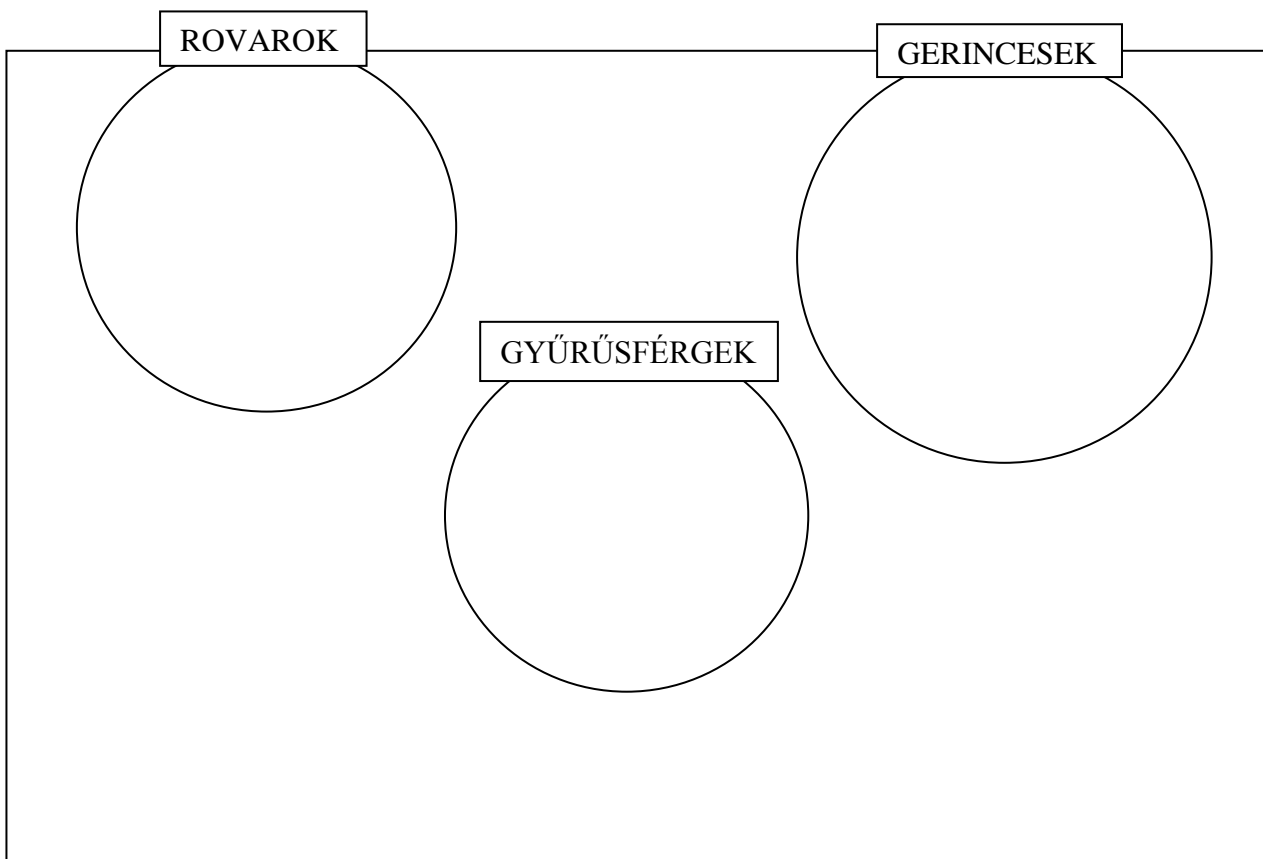
.....

- f) Fehér tollú kiscsibe, kerek tál a tó színe, megsütötte Holdanyó, majd megeszi Napapó.  
.....
- g) Nincsen hangom, nem beszélek, tiszta vízben vígan élek.  
.....
- h) Fúr-farag, nem ács.  
.....
- i) Az erdőket járja, nevét kiabálja.  
.....
- j) Mindig mosdik, sosem törülközik.  
.....

<b>10p</b>	
------------	--

**11. Csoportosítsd az állatokat!**

1. vörös róka 2. házi méh 3. réti sas 4. mocsári teknős 5. erdei fülesbagoly 6. sün 7. molnárpóloska 8. cserebogár 9. vizisikló 10. folyami rák 11. orvosi pióca 12. tavi kagyló 13. éti csiga 14. éti csiga 15. földigiliszta 16. kecske



<b>16p</b>	
------------	--