

# TÖRTÉNELEM

8. évfolyamos tanulók számára

## 3. forduló

2013. január 30.

Össz.pontszám: 

30p	
-----	--

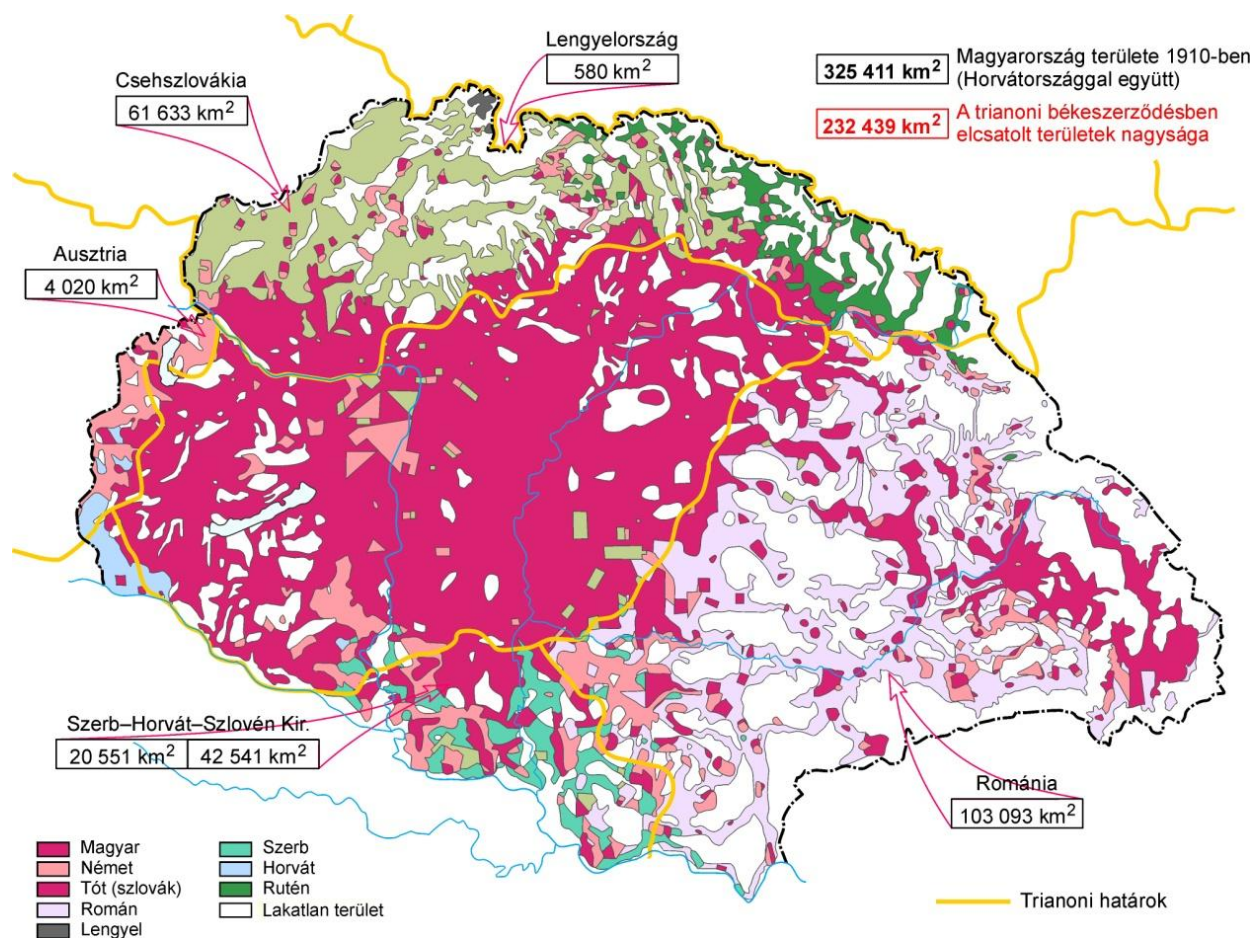
Versenyző neve: ..... Osztály: .....

Iskola neve: .....

**Az utolsó fordulónak egyetlen témája van: a trianoni békediktátum (békeszerződés). A szöveges és képi források, valamint a saját ismeretei alapján válaszoljon a kérdésekre!**

### FORRÁSOK

**Területi és etnikai változások a trianoni béke következtében: (forrás)**



**Részletek a békediktátum katonai előírásaiból: (forrás)**

103. Cikk. Az általános hadkötelezettséget Magyarországon meg kell szüntetni. A magyar hadsereget a jövőben csak önkéntes belépés alapján lehet felállítani és kiegészíteni.

104. Cikk. A magyar hadsereg katonai erőinek összessége nem haladhatja meg a 35.000 főt, beleértve a tiszteket és a pótkeretek csapatait is.

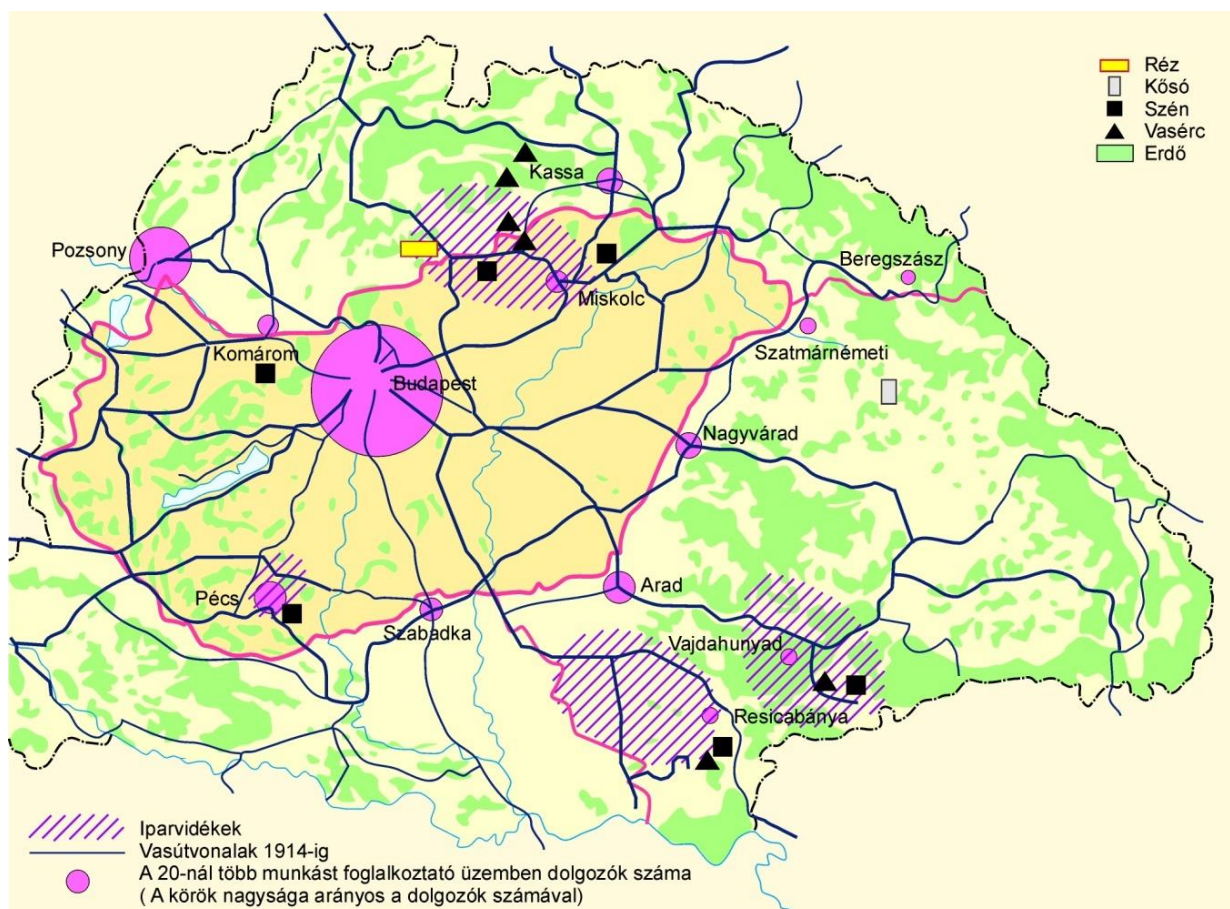
128. Cikk. Magyarország haderejének katonai vagy hadihajózási repülőszolgálatára nem lehet.

119. Cikk. Minthogy lángvetőket, fojtó, mérgező vagy hasonló gázokat, valamint ezekkel rokon folyadékokat, anyagokat és eljárásokat használni nem szabad, azoknak előállítására Magyarországon és behozatala Magyarországra szigorúan tilos.

Hasonlóképpen tilos páncélos járműveket, tankokat vagy hadicélokra felhasználható más hasonló gépeket

Magyarországon gyártani és Magyarországra behozni.

**A trianoni béke gazdasági következményei: (forrás)**



1. Mikor írták alá a trianoni békediktátumot (évszám, hónap, nap):

.....

<b>1p</b>	
-----------	--

2. Melyik ország területén írták alá: .....


<b>1p</b>	
-----------	--

3. Melyik nagyhatalom érdekeit szolgálta elsősorban ez a béke? Aláhúzással jelölje a helyes választ az alábbi lehetőségek közül:

- A. Amerikai Egyesült Államok
- B. Franciaország
- C. Németország

<b>1p</b>	
-----------	--

4. Kiket ábrázolnak a képek? Írja a kipontozott vonalra a nevüket (vezeték és keresztnév). A képek mellett található meghatározások segítséget nyújtanak a feladat megoldásban.



A magyar béke delegáció vezetője.

.....



Magyarország államfője a trianoni béke aláírásakor.

.....



Nemzetközi híró földrajztudós, aki a béke delegáció tagjaként statisztikai adatok tömegével próbált hatni a békekonferenciára, bizonyítva a Kárpát-medence természeti, vízföldrajzi és gazdasági egységét.

.....

5. A történelmi Magyarország területéből mennyit csatoltak más országokhoz?

Az alábbi lehetőségek közül húzza alá a megfelelő választ!

A. kb. 25 %

B. kb. 50 %

C. kb. 67 %

3p	
----	--

1p	
----	--

6. Töltse ki a táblázatot! Melyik országok kapták meg a táblázatban felsorolt történelmi Magyarország régióit?

Régió (terület)	Ország neve
Felvidék és Kárpátalja	
Erdély	
Bácska és Bánát (Délvidék)	
Alpokalja (Burgenland)	

4p

7. A kárpát-medencei magyarság mekkora része került más államok fennhatósága alá? Az alábbi lehetőségek közül húzza alá a megfelelő választ!

- A. harmada
- B. fele
- C. tizede

1p

8. Hány főben határozták meg Magyarország katonai erejét?

\_\_\_\_\_

1p

9. Soroljon fel 4 olyan fegyvert, harceszközt, amelyek tiltása révén azt a célt akarták elérni, hogy Magyarország katonai ereje ne legyen modern!

.....  
.....  
.....  
.....

4p

10. Húzza alá a békediktátum katonai előírásaival foglalkozó forrásból azt a két szóból álló kifejezést, amelyre igaz a következő állítás: „egy adott állam részéről az állampolgáraitól megkövetelt, kötelező jellegű, határozott ideig tartó katonai szolgálat”.

1p

11. Milyen következménnyel jártak a katonai előírások? Húzza alá a helyes választ az alábbi lehetőségek közül!

- A. Magyarország hadereje lényegében ugyanolyan katonai erővel rendelkezett, mint a környező országok
- B. Magyarország modern harceszközei révén fejlettebb hadsereggel rendelkezett, mint a környező országok
- C. Magyarország lényegében kiszolgáltatottá vált a környező államok katonai támadásainak

1p



**12. Töltse ki a táblázatot! A feladat a békediktátum gazdasági következményeire vonatkozik. Tegyen „X” jelet a meghatározások után, annak megfelelően, hogy azok igaz vagy hamis állítást tartalmaznak!**

Állítás	Igaz	Hamis
Magyarország malomiparának termelése nem változott, hiszen a legjelentősebb gabonatermő vidékeket nem csatolták el		
Magyarország papíripara szinte teljesen megbénult az erdős területek elvesztése miatt		
Vasércben továbbra is gazdag maradt Magyarország		
Sóból behozatalra szorultunk		
Megbomlott a Kárpát-medence korábbi gazdasági egysége		
Magyarország nehézipara fejlődésnek indult		

6p

**13. A magyar politika válasza a trianoni békediktátumra: revízió. Húzza alá az alábbi meghatározások közül a revízió fogalmára illő választ!**

- A. A trianoni palota felújítása
- B. A trianoni béke előírásainak felülvizsgálata
- C. A trianoni béke elfogadása

1p

**14. A békediktátum előírásai közül egyetlenegy esetben változtatták meg: Sopron és környékének hovatartozásában. Eredetileg Ausztriának ítélték oda. Miért került mégis Magyarországhoz? Az alábbi lehetőségek közül húzza alá a helyes választ!**

- A. Ausztria önként átadta a népek önrendelkezésének elve alapján
- B. Népszavazás döntött ebben a kérdésben
- C. Magyarország katonai erővel vette vissza

1p

15. Adjon címet a korabeli plakátnak! A kép alatt hat lehetséges címet adtunk meg. Válassza ki aláhúzással azt a hármat, amely megfelel a plakát mondanivalójának!



- 
- A. Igazságot Magyarországnak!
  - B. Éljen Trianon!
  - C. Az igazságos béke!
  - D. Nem, nem soha!
  - E. Csonka Magyarország nem ország, Nagy-Magyarország mennyország!
  - F. Magyarország reménye: Trianon!
  - G. Fogadd el a trianoni békét!
  - H. Hiszek Magyarország feltámadásában!

3p	
----	--